

Szögek, szögmérés

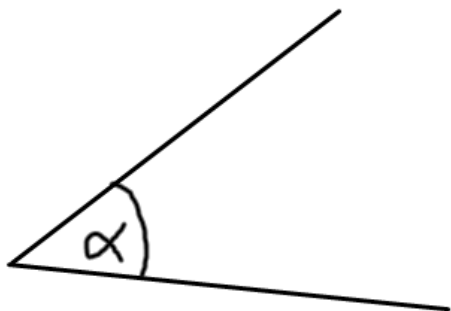
Név: _____

1. a, A _____ foknál nagyobb, de _____ foknál kisebb szögeket tompaszögnek nevezzük.

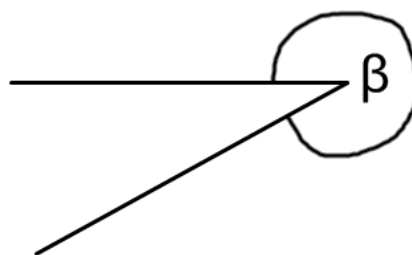
b, A teljesszög _____ fokos.

c, A 90 fokos szöget _____ nevezzük.

2. Milyen szögek az alábbi szögek? Mérd meg mekkora a nagyságuk?




$\alpha =$



$\beta =$

3. Rajzolj egy 135°-os szöget az O pontba!



4. Mekkora szöget zár be egymással az óra kis-és nagymutatója



a, 4 órakor? _____



b, 9 órakor? _____



c, 7 óra 30 perckor? _____