


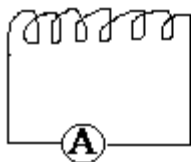
8.o. Fizika – 3. Témazáró

Név: _____

1. Egészítsd ki!

Az elektromágneses indukció akkor jön létre, ha.....
.....

2. Milyen mágneses pólus alakul ki a tekercs mágnesrúd felé eső végén, ha a tekercshez a mágnesrúd É-i pólusú felével



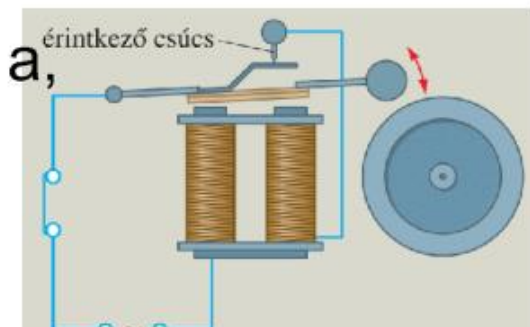
a, távolodik?

b, közeledik?

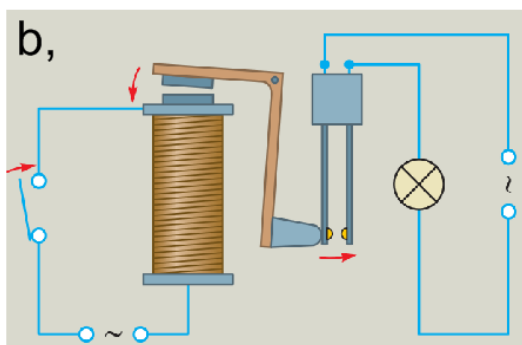
c, Lenz törvénye: Az indukált áram iránya mindig olyan, hogy

3. Milyen áramot nevezünk váltakozó áramnak?

4. Mi a neve és hogyan működik a képen látható eszköz? Nézz utána a tankönyvben!



.....
.....
.....
.....
.....
.....
.....
.....



.....
.....
.....
.....
.....
.....
.....
.....

